

ganz bestimmte Querkraft. Wir haben bei den lothrecht belasteten Balkenträgern nur mit lothrechten Kräften zu thun und werden demnach zunächst und, falls das Gegentheil nicht besonders bemerkt wird, stets solche voraussetzen.

Die Querkräfte werden als positiv eingeführt, wenn sie auf den Trägertheil links von dem betrachteten Querschnitt nach oben, bzw. auf den Trägertheil rechts von dem betrachteten Querschnitt nach unten wirken; als negativ, wenn sie auf den Theil links nach unten, bzw. auf den Theil rechts nach oben wirken. Die Momente sind (siehe Art. 85, S. 59) positiv, wenn sie auf den Theil links vom Querschnitt nach rechts drehend (also in der Richtung des Uhrzeigers), bzw. auf den Theil rechts vom Querschnitt nach links drehend wirken, d. h. den Balken so zu drehen streben, daß er seine convexe Seite nach unten kehrt.

Die Belastungen sind entweder nach einem bestimmten Gesetze fortlaufend über den Träger vertheilt — im Hochbau meistens gleichmäßig über die wagrechte Projection der Trägeraxe, oder sie greifen in einzelnen Punkten als Einzellaften an. Zu den gleichmäßig über die wagrechte Projection vertheilten Belastungen rechnet man die Eigengewichte der Träger, welche Annahme genügend genau ist.

Die Größe des Eigengewichtes von Decken-Constructionen kann nach den Angaben in Art. 21 u. 22 (S. 17) angenommen werden; bezüglich der Annahmen für die Nutzlast sei auf Art. 24 (S. 19) verwiesen. Da die Belastungen bekannt sind, handelt es sich zunächst um die Ermittlung der durch dieselben erzeugten Stützendrücke, Momente und Querkräfte, ferner um die diesen entsprechenden Querschnittsabmessungen. Für jeden Querschnitt ist die ungünstigste mögliche Belastung einzuführen.

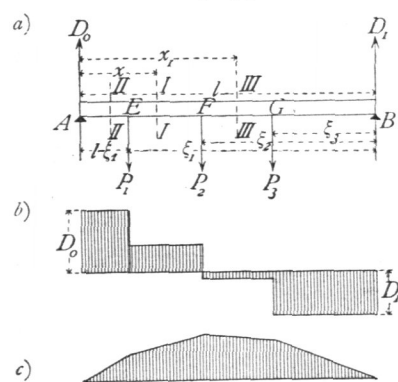
In den folgenden Artikeln soll für die wichtigsten Balkenträger und für verschiedene Belastungsarten die Ermittlung der Auflagerdrücke, der Querkräfte und Momente auf dem Wege der Rechnung, bzw. auf dem der Construction gezeigt werden.

1) Balkenträger auf zwei Stützen.

Die Stützweite des Trägers, von Auflagermitte zu Auflagermitte gerechnet, sei l .

Erster Belastungsfall: Der Träger wird durch beliebige Einzellaften belastet.

Fig. 155.



Die Laften sind P_1, P_2, P_3 , wie aus nebenstehender Fig. 155 ersichtlich; es sollen die Querkräfte und Momente für alle Querschnitte des Balkens ermittelt werden.

a) Berechnung. Zunächst sind die nicht gegebenen äußeren Kräfte, die Auflagerdrücke D_0 und D_1 , zu bestimmen. Da Gleichgewicht stattfindet, so ist die algebraische Summe der statischen Momente aller Kräfte in Bezug auf einen beliebigen Punkt der Ebene gleich Null. Um D_0 zu ermitteln, wählt man zweckmäßig einen Punkt auf der Richtungslinie von D_1 als Drehpunkt, damit die zweite Unbekannte D_1 das statische Moment

Null habe, also nur eine Unbekannte in der Gleichung vorkomme. Alsdann ist, wenn B als Drehpunkt für die Gleichung der statischen Momente gewählt wird,

150.
Belastungen

151.
Belastung
durch
Einzellaften.

$$0 = D_0 l - P_1 \xi_1 - P_2 \xi_2 - P_3 \xi_3,$$

$$D_0 = \frac{P_1 \xi_1}{l} + \frac{P_2 \xi_2}{l} + \frac{P_3 \xi_3}{l} = \sum_0^l \left(\frac{P \xi}{l} \right) \dots \dots \dots 163.$$

Wählt man in gleicher Weise ein zweites Mal *A* als Drehpunkt, so ergibt sich

$$D_1 = \frac{P_1 (l - \xi_1)}{l} + \frac{P_2 (l - \xi_2)}{l} + \frac{P_3 (l - \xi_3)}{l} = \sum_0^l \left[\frac{P (l - \xi)}{l} \right] \dots \dots 164.$$

Der Beitrag, welchen jede Einzellast zum Gesamtauflegerdruck leistet, ist, wie man aus den Gleichungen 163 u. 164 erfieht, ganz unabhängig von der Gröfse und Art der übrigen Belastungen; die Auflagerdrücke sind die Summen der durch die einzelnen Lasten erzeugten Einzeldrücke.

Nummehr lassen sich die Querkräfte ermitteln.

Für einen beliebigen Querschnitt *II*, im Abstände *x* vom linken Auflager *A*, ist die Querkraft, als Mittelkraft aller an der einen Seite wirkenden äufseren Kräfte,

$$Q_x = D_0 - P_1 \dots \dots \dots 165.$$

In diesem Ausdrücke kommt die Absciffe *x* des Querschnittes gar nicht vor; die Querkraft ist also, so lange der angegebene Ausdruck überhaupt gilt, ganz unabhängig von *x*, d. h. constant. Der Ausdruck gilt aber nur für die Querschnitte zwischen *E* und *F*; denn für einen Querschnitt links von *E*, etwa für *II II*, ist

$$Q_{II} = D_0;$$

für einen solchen rechts von *F*, etwa für *III III*, ist

$$Q_{III} = D_0 - P_1 - P_2 = \sum_0^l \left(\frac{P \xi}{l} \right) - (P_1 + P_2) = \sum_0^l \left(\frac{P \xi}{l} \right) - \sum_0^{x_1} (P).$$

Es folgt daraus: Falls eine Belastung nur durch Einzellasten stattfindet, ist die Querkraft für alle Querschnitte zwischen je zwei Lastpunkten, so wie zwischen einem Auflagerpunkt und einem Lastpunkt constant; eine Aenderung der Querkraft findet nur in den Lastpunkten statt.

Die Querkraft hat, absolut genommen, denselben Werth, möge der Trägertheil rechts oder derjenige links von dem betreffenden Querschnitt betrachtet werden; denn die Querkraft für einen Querschnitt ist die Mittelkraft aller an der einen Seite desselben wirkenden äufseren Kräfte. Ermittelt man nun zunächst die Mittelkraft aller links, dann diejenige aller rechts wirkenden äufseren Kräfte und nennt dieselben bezw. *Q_{links}* und *Q_{rechts}*, so mufs, da diese beiden alle auf den Körper wirkenden äufseren Kräfte in sich schliesen, des Gleichgewichtes halber stattfinden

$$Q_{links} + Q_{rechts} = 0 \quad \text{und} \quad Q_{rechts} = - Q_{links}.$$

Wirkt also die Querkraft auf den Theil links vom Querschnitte nach oben, so mufs sie auf den Theil rechts vom Querschnitte nach unten wirken und umgekehrt.

Das Gesetz der Aenderung der Querkräfte wird sehr anschaulich, wenn man in jedem Querschnitte die dafelbst stattfindende Querkraft als Ordinate nach beliebigem, aber für alle Querschnitte gleichem Mafsstabe aufträgt und die Endpunkte der Ordinaten verbindet. Es ergibt sich die in Fig. 157 *b* gezeichnete Linie, in welcher die positiven Werthe von der Absciffe aus nach oben, die negativen Werthe nach unten getragen sind.

Was endlich die Bestimmung der Momente anbelangt, so ist für den Querschnitt *II*

$$M_I = D_0 x - P_1 (x - l + \xi_1) \dots \dots \dots 166.$$

Für den Querschnitt *III III* ist

$$M_{III} = D_0 x_1 - P_1 (x_1 - l + \xi_1) - P_2 (x_1 - l + \xi_2) \dots \dots \dots 167.$$

Innerhalb je zweier Laftpunkte, so wie zwischen einem Auflagerpunkt und einem Laftpunkt ändert sich demnach das Moment nach dem Gesetze einer geraden Linie; denn für verschiedene Werthe von x , bzw. x_1 bleiben alle in den Gleichungen 166 u. 167 vorkommenden Ausdrücke mit Ausnahme von x und x_1 constant; diese einzigen Veränderlichen kommen aber nur in der ersten Potenz vor. Trägt man also auch hier in den verschiedenen Querschnitten die Werthe von M als Ordinaten auf, so erhält man als Verbindungslinien der Endpunkte gerade Linien; in jedem Laftpunkt ändert sich der Ausdruck für M , also auch die Gerade. In Fig. 155c ist die Aenderung der Momente graphisch dargestellt.

Da eine Gerade ihre größte Ordinate nur am Anfangspunkte oder Endpunkte haben kann, diese aber hier mit den Laftpunkten zusammenfallen, so folgt, daß die größten Momentenwerthe an den Laftpunkten stattfinden. Dieses Ergebniss ist von großer Bedeutung. Wenn nur eine Einzellaft P vorhanden ist, so ist demnach das größte Moment stets am Laftpunkte. Liegt alsdann P in den Abständen ξ , bzw. $l - \xi$ von den beiden Auflagern, so ist das Moment am Laftpunkte, also das größte Moment, welches für die Querschnittsbildung maßgebend ist,

$$M_{max} = \frac{P(l - \xi) \xi}{l}.$$

Liegt P in der Mitte des Balkens, so ist $\xi = (l - \xi) = \frac{l}{2}$, also

$$M_{max} = \frac{Pl}{4}.$$

Sind zwei Einzellaften auf dem Balken, so braucht man nur die beiden Momente an den Laftpunkten zu ermitteln; das größere von beiden ist zugleich das größte. Wenn beide Lasten gleich groß, und zwar je gleich P sind und im gleichen Abstände $\frac{a}{2}$ von der Balkenmitte liegen, so ist das Moment an jedem Laftpunkte

$$M = \frac{P(l - a)}{2}.$$

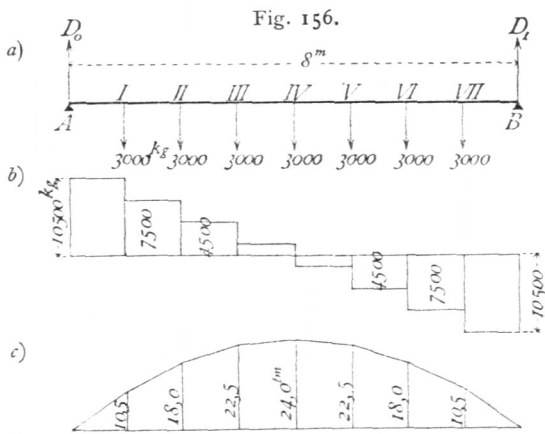
Wenn endlich mehrere Lasten vorhanden sind, braucht man nur die Momente an den Laftpunkten aufzusuchen. Falls der Balken constanten Querschnitt erhält

(wie dies z. B. beim Walzbalken der Fall ist), so ist dieser nach dem größten überhaupt stattfindenden Momente zu bestimmen.

Beispiel. Ein schmiedeeiserner Unterzug (Fig. 156) von 8 m Stützweite trägt 7 Balken, deren Abstand von Mitte zu Mitte je 1 m betrage. Jeder Balken belaste den Unterzug mit einem Gewicht von 3000 kg. Es sind die Auflagerdrücke, Querkräfte und Momente zu ermitteln. Nach Gleichung 163 ist

$$D_0 = \frac{3000}{8} (1 + 2 + 3 + 4 + 5 + 6 + 7) = 10500 \text{ kg};$$

eben so nach Gleichung 164



$$D_1 = \frac{3000}{8} 28 = 10\,500 \text{ kg.}$$

In Fällen, wie der vorliegende, wo die Belastungen symmetrisch zur Mitte des Balkens liegen und die Abstände derselben gleich sind, faßt man bequemer alle Lasten zu einer Mittelkraft, hier ihrer Summe, zusammen, die in der Balkenmitte angreift. Es ist alsdann $R = 7 \cdot 3000 = 21\,000 \text{ kg}$ und $D_0 = \frac{21\,000}{l} \cdot \frac{l}{2} = 10\,500 \text{ kg} = D_1$.

Die Querkräfte für die verschiedenen Querschnitte sind:

von A bis $I = 10\,500 \text{ kg}$, von IV bis $V = 10\,500 - 4 \cdot 3000 = -1500 \text{ kg}$,
 » I » $II = 10\,500 - 3000 = 7500 \text{ kg}$, » V » $VI = 10\,500 - 5 \cdot 3000 = -4500 \text{ kg}$,
 » II » $III = 10\,500 - 2 \cdot 3000 = 4500 \text{ kg}$, » VI » $VII = 10\,500 - 6 \cdot 3000 = -7500 \text{ kg}$,
 » III » $IV = 10\,500 - 3 \cdot 3000 = 1500 \text{ kg}$, » VII » $B = 10\,500 - 7 \cdot 3000 = -10\,500 \text{ kg}$.

Im Lastpunkte IV (in der Trägermitte) geht die Querkraft von den positiven zu den negativen Werthen über.

Die Momente in den Lastpunkten sind:

$$\begin{aligned} M_I &= 10\,500 \cdot 1 = 10\,500 \text{ kgm} = 1\,050\,000 \text{ kgcm}, \\ M_{II} &= 10\,500 \cdot 2 - 3000 \cdot 1 = 18\,000 \text{ kgm} = 1\,800\,000 \text{ kgcm}, \\ M_{III} &= 10\,500 \cdot 3 - 3000 \cdot 1 - 3000 \cdot 2 = 22\,500 \text{ kgm} = 2\,250\,000 \text{ kgcm}, \\ M_{IV} &= 10\,500 \cdot 4 - 3000(1 + 2 + 3) = 24\,000 \text{ kgm} = 2\,400\,000 \text{ kgcm}, \\ M_V &= 10\,500 \cdot 5 - 3000(1 + 2 + 3 + 4) = 22\,500 \text{ kgm} = 2\,250\,000 \text{ kgcm} = M_{III}, \\ M_{VI} &= M_{II}, \quad M_{VII} = M_I, \quad M_A = M_B = 0. \end{aligned}$$

Hiernach sind die Momente und Querkräfte in Fig. 156 *c* u. 156 *b* aufgetragen.

β) Graphische Ermittlung. Um die Auflagerdrücke zu ermitteln, construirt man für die gegebenen Kräfte und den beliebigen Pol O (Fig. 157) das Kraft- und Seilpolygon, ziehe die Schlußlinie ab und parallel zu dieser eine Linie $O\varepsilon$ durch den Pol O ; dieselbe theilt die Kraftlinie in zwei Theile, von denen $\overline{\delta\varepsilon} = D_1$ und $\overline{\varepsilon\alpha} = D_0$ ist (vergl. Art. 19, S. 14). Nun lassen sich die Querkräfte graphisch leicht ermitteln.

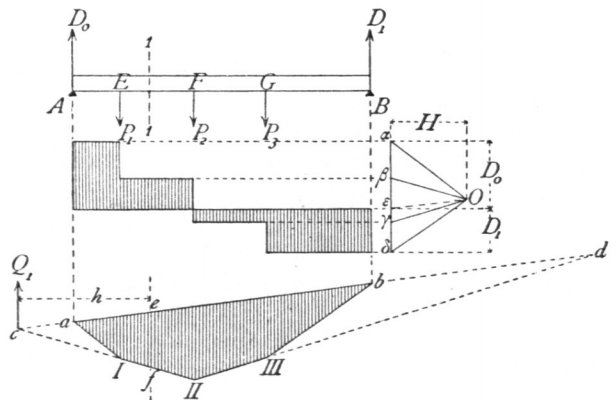
Für alle Querschnitte von A bis E ist die Querkraft gleich D_0 , d. h. gleich $\varepsilon\alpha$ (Fig. 157). Zieht man also durch ε und α je eine Wagrechte, so giebt deren Abstand die Größe der Querkraft zwischen A und E an. Zwischen E und F ist die Querkraft gleich $D_0 - P_1 = \varepsilon\alpha - \alpha\beta = \varepsilon\beta$; man ziehe also durch β eine wagrechte Linie; alsdann giebt deren Abstand von der durch ε gezogenen Geraden an jeder Stelle zwischen E und F die Größe der Querkraft. Eben so ist zwischen F und G die Strecke $\varepsilon\gamma$, zwischen G und B die Strecke $\varepsilon\delta$ die Querkraft.

Die Querkraft als Mittelkraft aller an der einen Seite des Querschnittes wirkenden Kräfte geht nach Art. 18 (S. 13) durch den Schnittpunkt derjenigen Seilpolygoneiten, welche bezw. der ersten und letzten dieser Kräfte vorangehen und folgen. Für einen Querschnitt zwischen E und F sind D_0 und P_1 die Kräfte, ab und II die betreffenden Seilpolygoneiten; die Querkraft geht also durch deren Schnittpunkt c . Für jeden Querschnitt zwischen II und III geht die Querkraft durch d etc.

Die graphische Bestimmung der Momente geschieht in nachstehender Weise.

Für einen beliebigen Querschnitt rt (Fig. 157) ist das Moment gleich dem Moment der Mittelkraft, d. h. hier der Querkraft. Es ist demnach $M_1 = Q_1 h$. Nun ist $\Delta cef \sim \Delta O\varepsilon\beta$, mithin $\frac{ef}{h} = \frac{\varepsilon\beta}{H}$, und, da $\overline{\varepsilon\beta} = Q_1$ ist, $\overline{ef} = \frac{Q_1 h}{H} = \frac{M_1}{H}$, also $M_1 = H \cdot \overline{ef}$.

Fig. 157.



In vorstehendem Ausdruck für M ist H , der wagrechte Abstand des Poles von der Kraftlinie oder der Polabstand, für alle Querschnitte constant; die GröÙe des Momentes ist also mit \overline{ef} , d. h. der lothrechten Höhe des Seilpolygons veränderlich. Daraus folgt:

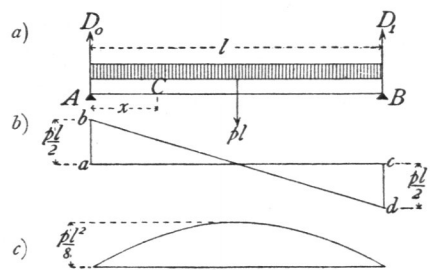
Das Moment in jedem Querschnitte ist gleich dem Producte aus dem lothrechten Abstände der Seilpolygoneiten bei diesem Querschnitte und dem Polabstand. Die vom Seilpolygon gebildete Fläche heißt die Momentenfläche.

Die Momente sind Producte aus Kräften und Längen; H ist eine Kraft, wie alle Strahlen und Linien im Kraftpolygon, und kann nach Obigem beliebig angenommen werden, etwa mit 10^t , 20^t etc. Da das Moment in irgend einem Querschnitt einen ganz bestimmten Werth hat, der natürlich von einem beliebig gewählten H unabhängig ist, so wird die Höhe des Seilpolygons desto größer, je kleiner H ist, und umgekehrt.

Zweiter Belastungsfall: Der Träger ist über seine ganze Länge durch eine gleichförmig vertheilte Last belastet.

152.
Gleichförmig
vertheilte
Belastung.

Fig. 158.



Die Belastung für die Längeneinheit des Trägers (Fig. 158) sei p ; alsdann ist die Mittelkraft gleich der Gesamtlast, also gleich $p l$ und greift in der Trägermitte an. Die Gleichung der statischen Momente für B als Drehpunkt heißt demnach:

$$D_0 l - p l \frac{l}{2} = 0,$$

und es wird

$$D_0 = \frac{p l}{2}; \text{ eben so } D_1 = \frac{p l}{2}. \quad 168.$$

Die Querkraft für einen beliebigen Querschnitt C im Abstände x von A ist

$$Q_x = D_0 - p x = \frac{p l}{2} - p x = \frac{p}{2} (l - 2 x). \quad 169.$$

Die graphische Darstellung der Veränderung der Querkraft ergibt die Linie der Gleichung 169, d. h. eine Gerade. Für $x = 0$ ist $Q_0 = \frac{p l}{2}$; für $x = l$ ist $Q_l = -\frac{p l}{2}$. Q_x wird Null für $l - 2 x = 0$, d. h. für $x = \frac{l}{2}$. Die Ordinaten der Linie bd (Fig. 158 *b*) sind also die Querkräfte an den verschiedenen Stellen des Balkens.

Das Moment für den Querschnitt C ist

$$M_x = D_0 x - p x \frac{x}{2} = \frac{p l}{2} x - \frac{p x^2}{2} = \frac{p}{2} (l x - x^2) \quad 170.$$

Trägt man die Momente in den verschiedenen Querschnitten als Ordinaten auf, so erhält man die Curve der Gleichung 170, d. h. eine Parabel. Für $x = 0$ ist $M_0 = 0$; für $x = l$ ist $M_l = 0$. M_x wird ein Maximum für $\frac{d M_x}{d x} = \frac{p}{2} (l - 2 x) = 0$, d. h. für $x = \frac{l}{2}$; demnach

$$M_{max} = \frac{p}{2} \left[l \frac{l}{2} - \left(\frac{l}{2} \right)^2 \right] = \frac{p l^2}{8} \quad 171.$$

Hiernach kann die Parabel leicht construirt werden (Fig. 158 *c*). Man trage $\frac{p l^2}{8}$ nach beliebig angenommenem Momenten-Maßstabe auf und verzeichne in be-

kannter Weise die Parabel; alsdann sind alle Ordinaten auf diesem Maßstabe zu messen.

Nennt man die gesammte auf den Träger entfallende Last $p l = P$, so kann man auch setzen

$$M_{max} = \frac{P l}{8} \dots \dots \dots 172.$$

Dieser Ausdruck ist oft bequemer, als Gleichung 171. Wirkt eine Last P als Einzelast in der Mitte, so erzeugt sie nach Art. 151 (S. 129) ein Maximalmoment

$M_{max} = \frac{P l}{4}$, d. h. ein doppelt so großes Moment, als die gleichförmig über den ganzen Träger vertheilte Last P .

Beispiele. 1) Ein Flurgang von 4 m Lichtweite ist mit einer Decke aus Kappengewölben zwischen eisernen I-Trägern zu überdecken; die Spannweite der Kappen sei 2,2 m; die Träger sollen berechnet werden.

Die Stützweite der Träger, d. h. die Entfernung von Auflagermitte zu Auflagermitte, kann zu 4,3 m, d. i. zu 430 cm angenommen werden; alsdann ist $l = 430$ cm. Auf das laufende Meter des Trägers kommt eine zu tragende Grundfläche von 2,2 m Breite und 1 m Länge; mithin ist die Last für das laufende Meter Träger, bei einer Maximalbelastung von 750 kg für 1 qm Grundfläche, gleich $2,2 \cdot 750 = 1650$ kg und für das laufende Centimeter Träger $p = 16,5$ kg. Die Auflagerdrücke sind also nach Gleichung 168

$$D_0 = D_1 = \frac{16,5 \cdot 430}{2} = 3547 \text{ kg},$$

und das Moment nach Gleichung 171

$$M_{max} = M_{mitte} = \frac{16,5 \cdot 430^2}{8} = 381\,356 \text{ kgcm}.$$

Nun ist der Querschnitt nach Art. 88 (S. 65) so zu bestimmen, daß $\frac{f}{a} = \frac{M}{K} = \frac{381\,356}{700} = 544,8$ ist. Falls ein I-Querschnitt gewählt wird, ist Nr. 28 der »Deutschen Normal-Profile« zu wählen, da bei demselben $\frac{f}{a} = 547$ ist²⁴⁾.

2) Es sollen die Abmessungen bestimmt werden, welche einem Deckenbalken aus Kiefernholz bei einer Lichtweite von 6 m zu geben sind, wenn die Balkenentfernung von Mitte zu Mitte 0,9 m und die Gesammtbelastung der betreffenden Decke (Eigengewicht und Nutzlast) 500 kg für 1 qm beträgt.

Das laufende Meter Balken hat eine Grundfläche von 0,9 m Breite zu tragen, d. h. eine Last von $0,9 \cdot 500 = 450$ kg; mithin beträgt die Belastung für das laufende Centimeter des Balkens $p = 4,5$ kg. Die von Auflagermitte zu Auflagermitte zu rechnende Stützweite l nehmen wir zu $6,3 \text{ m} = 630 \text{ cm}$ an. Das größte Moment, welches hier, da der Balkenquerschnitt constant ist, der Berechnung des ganzen Balkens zu Grunde gelegt werden muß, findet in der Balkenmitte statt und ist nach Gleichung 171

$$M_{max} = \frac{4,5 \cdot 630^2}{8} = 223\,256 \text{ kgcm};$$

mithin nach Art. 93 (S. 67)

$$\frac{f}{a} = \frac{M_{max}}{K} = \frac{223\,256}{60} = 3721.$$

Da nun nach Gleichung 19: $f = \frac{b h^3}{12}$, ferner $a = \frac{h}{2}$ ist, wird $\frac{b h^2}{6} = 3721$, und wenn $b = 25$ cm angenommen wird,

²⁴⁾ Man muß beim Einsetzen der Zahlenwerthe für p und l vorsichtig sein. Es ist eigentlich selbstverständlich, daß, wenn man l in Metern einführt, p die Belastung für das laufende Meter Träger bedeutet, und wenn l in Centimetern eingeführt wird, p die Belastung für das laufende Centimeter Träger bedeutet. Giebt man ferner K , die zulässige Beanspruchung, in Kilogramm für 1 qm und das Moment M in Kilogramm-Centimetern an, so sind in der Gleichung $\frac{f}{a} = \frac{M}{K}$ die Werthe für f und a auf Centimeter bezogen einzusetzen. Dennoch dürfte es nicht überflüssig sein, hier besonders darauf aufmerksam zu machen, da von Anfängern und Ungeübten oft in dieser Hinsicht Fehler gemacht werden. Es empfiehlt sich, stets Alles auf Centimeter und Kilogramm bezogen einzuführen.

$$h = \sqrt{\frac{6 \cdot 3721}{25}} = 29,9 \text{ cm} \approx 30 \text{ cm}.$$

Es genügt fonach ein Querschnitt von $25 \times 30 \text{ cm}$.

Dritter Belastungsfall: Der Träger ist auf einen Theil seiner Länge durch eine gleichförmig vertheilte Last beladet.

153.
Theilweise
gleichförmig
vertheilte
Belastung.

Eine Last P im Abstände x vom linken Auflager A (Fig. 159) erzeugt die Auflagerdrücke

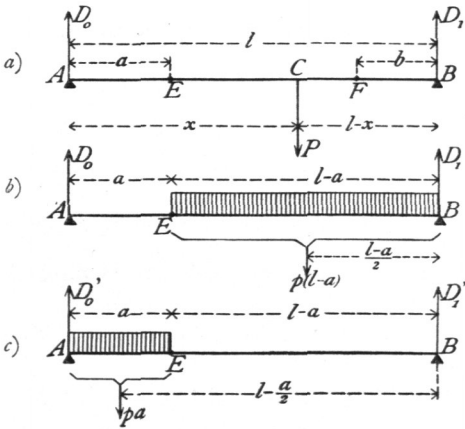
$$D_0 = \frac{P(l-x)}{l} \quad \text{und} \quad D_1 = \frac{Px}{l}.$$

Die Querkraft ist für jeden Querschnitt E links vom Lastpunkte C : $Q = D_0 = \frac{P(l-x)}{l}$, d. h. positiv; für jeden Querschnitt F rechts vom Lastpunkt C :

$$Q_1 = D_0 - P = \frac{P(l-x)}{l} - P = -\frac{Px}{l}, \text{ d. h. negativ. Daraus folgt der Satz:}$$

Jede Belastung erzeugt in allen links von ihr gelegenen Querschnitten positive, in allen rechts gelegenen Querschnitten negative Querkräfte. Demnach wird in irgend einem Querschnitte, etwa E , die größte Querkraft (Q_{max}) stattfinden, wenn die ganze Trägerabtheilung rechts von E beladet, der übrige Trägertheil (AE) unbelastet ist (Fig. 159b). Die kleinste Querkraft (Q_{min}) wird in E eintreten, wenn die Abtheilung AE links von E beladet, die Abtheilung EB rechts von E unbelastet ist (Fig. 159c).

Fig. 159.



Man erhält die Werthe von Q_{max} , bezw. Q_{min} für den Querschnitt E , welcher um a vom linken Auflager entfernt liegt, und für die Belastung p auf das laufende Meter, wie

folgt. Für die Belastung nach Fig. 159b ist

$$D_0 = Q_{max} = \frac{p(l-a)^2}{2l}; \dots \dots \dots 173.$$

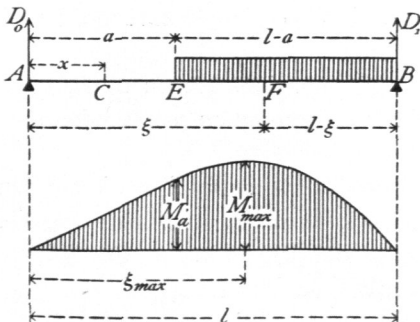
für die Belastung nach Fig. 159c ist

$$D_0' = \frac{p a}{l} \left(l - \frac{a}{2} \right) = p a - \frac{p a^2}{2l} \quad \text{und} \quad Q_{min} = D_0' - p a;$$

Fig. 160.

fonach

$$Q_{min} = -\frac{p a^2}{2l} \dots \dots 174.$$



Die Belastung nach Fig. 159 kommt im Hochbau sehr häufig vor, z. B. bei Trägern unter Mauern, in welchen sich Fenster- oder Thüröffnungen befinden. Für die Querschnittsbemessung ist das größte Moment maßgebend, welches demnach aufgesucht werden soll.

Für irgend einen Punkt C der Strecke AE (Fig. 160) ist das Moment

$M_x = D_0 x = \frac{p(l-a)^2}{2l} x$; die graphische Darstellung ergibt eine Gerade. Für einen Punkt F der Strecke CB ist dasselbe bequem durch Betrachtung des rechts von F gelegenen Trägertheiles zu finden. Es ist

$$M_\xi = D_1 (l - \xi) - \frac{p(l - \xi)^2}{2}, \text{ woraus } M_\xi = \frac{p}{2l} (l - \xi) (l \xi - a^2).$$

Auf dieser Strecke ergibt also die graphische Darstellung des Momentes eine Parabel. Dieselbe hat ihr Maximum für

$$\xi_{max} = \frac{l}{2} + \frac{a^2}{2l}.$$

Aus der Formel ergibt sich, daß das Maximum des Momentes stets in einem Punkte der belasteten Strecke EB stattfindet. M_{max} wird gefunden, wenn man in den Ausdruck für M_ξ statt ξ den für ξ_{max} gefundenen Werth einführt, also

$$M_{max} = \frac{p l^2}{8} \left[1 - \left(\frac{a}{l} \right)^2 \right]^2 \dots \dots \dots 175.$$

Nachstehende kleine Tabelle ergibt für eine Anzahl Werthe von a die Größe von M_{max} und von ξ_{max} :

Für	$a = 0$	0,1	0,2	0,3	0,4	0,5	0,6	0,7	0,8	0,9	1,0	l
	$\xi_{max} = 0,5$	0,505	0,52	0,545	0,58	0,625	0,68	0,745	0,82	0,9	1,0	l
	$M_{max} = 1$	0,98	0,92	0,83	0,71	0,56	0,41	0,26	0,13	0,04	0	$\frac{p l^2}{8}$

Eine Last P im Abstände x vom linken Auflager erzeugt im Punkte E links vom Lastpunkte (Fig. 159a) ein Moment $M_a = \frac{P(l-x)}{l} a$ und im Punkte F rechts vom Lastpunkte das Moment $M_b = \frac{P x}{l} b$. Beide Momentenwerthe sind

positiv; also erzeugt eine jede Einzellast in allen Trägerquerschnitten positive Momente. Die größten Momente in den einzelnen Trägerquerschnitten werden demnach stattfinden, wenn alle Trägerpunkte belastet sind, d. h. bei voller Belastung des Trägers. Ist also volle Belastung eines Trägers mit gleichmäÙig vertheilter Last p möglich, so ruft diese die größten Momente hervor. Bei dieser Belastung ist nach Gleichung 170 für einen Querschnitt mit der Abcisse x

$$M_x = \frac{p}{2} (l x - x^2) \dots \dots \dots 176.$$

Vierter Belastungsfall: Der Träger wird auf seine ganze Länge durch eine gleichförmig vertheilte Last und außerdem durch Einzellasten oder auf einen Theil seiner Länge durch eine weitere gleichförmig vertheilte Last belastet.

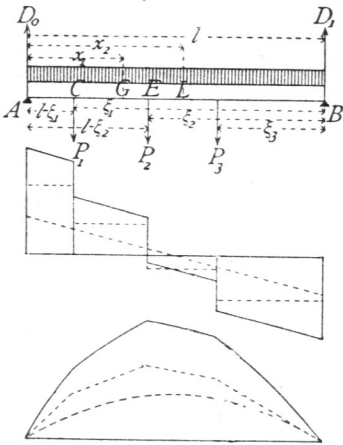
Da jeder Träger außer der Nutzlast noch das Eigengewicht tragen muß, dieses aber als gleichförmig über die ganze Länge vertheilt angenommen werden kann, so ist dieser Fall der am häufigsten vorkommende.

In Art. 151 ist nachgewiesen, daß jede Last einen von den sonst noch auf dem Balken befindlichen Lasten unabhängigen Stützendruck erzeugt, und daß der Gesamst-Stützendruck gleich der algebraischen Summe der Einzeldrücke ist. Daraus folgt, daß auch die Querkräfte und Momente für alle Querschnitte gleich den algebraischen Summen der bez. Theil-Querkräfte und Momente sind.

154.
Größte Momente durch gleichförmig vertheilte Lasten.

155.
Gleichförmig vertheilte Last und Einzellasten, bzw. theilweise Belastung.

Fig. 161.



Es brauchen also im vorliegenden Falle nur die Stützendrücke, Querkräfte und Momente, welche bei den einzelnen bereits betrachteten Belastungen, derjenigen durch Einzellasten und derjenigen durch gleichförmig vertheilte Last u. f. w. sich ergeben haben, algebraisch addirt zu werden, was sowohl auf dem Wege der Rechnung, wie graphisch geschehen kann.

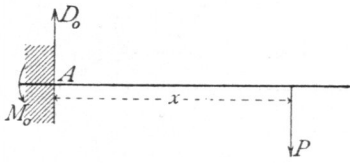
Fig. 161 stellt die Querkräfte und Momente dar, welche in den verschiedenen Querschnitten durch gleichförmig vertheilte Last und Einzellasten hervorgerufen werden. Die punktirten Linien geben die Werthe von Q und M nur für Einzellasten, bezw. für gleichförmig vertheilte Last an; die voll ausgezogenen Linien bedeuten die Summen.

2) Console-, Krag- oder Freiträger.

Console-, Krag- oder Freiträger sind am einen Ende unterstützte, am anderen Ende frei schwebende Träger. Als äußere Kräfte wirken auf dieselben die Belastungen und die Auflagerdrücke der Unterstützungsstelle. Letztere lassen sich aus den Gleichgewichtsbedingungen ermitteln. Damit der Träger im Gleichgewicht sei, muß zunächst die algebraische Summe der lothrechten Kräfte gleich Null sein, d. h. wenn die lothrechte Seitenkraft des Auflagerdrucks bei A (Fig. 162) gleich D_0 ist, wird $0 = D_0 - P$ oder

156.
Erklärung.

Fig. 162.



$0 = D_0 - P$ oder

$$D_0 = P \dots \dots \dots 177.$$

Eine äußere wagrechte Belastung sei nicht vorhanden; es wird also der Auflagerdruck keine wagrechte Seitenkraft haben. Es muß aber auch die algebraische Summe der statischen Momente für einen beliebigen Punkt der Ebene, also etwa für A , gleich Null sein; mithin muß, da das Moment der gegebenen Kräfte für A nicht gleich Null ist, D_0 aber für den Drehpunkt A kein statisches Moment hat, an der Unterstützungsstelle noch eine Anzahl von Kräften wirken, deren resultirendes Moment mit demjenigen der Belastungen zusammen die Summe Null ergibt. Bei A wirkt also ein Moment M_0 , dessen Größe sich ergibt zu

$$M_0 = - P x \dots \dots \dots 178.$$

Dieses Moment, dessen Drehrichtung, wie das Vorzeichen angiebt, derjenigen von P entgegengesetzt ist, kann auf verschiedene Weise erzeugt werden, am einfachsten durch Einmauerung, bezw. Einspannung des Balkens.

Soll für jede Belastungsart Gleichgewicht vorhanden sein, so muß der Balken derart eingemauert werden, daß das von der Mauer geleistete Moment auch die größten Werthe des Momentes der Belastungen aufheben kann. Das Moment der Mauer wird durch das über dem eingemauerten Balkentheil liegende Mauergerichtet geleistet, wonach dieses zu bestimmen ist.

Auch in anderer Weise kann ein Moment in A erzeugt werden, z. B. dadurch, daß der Balken über den Punkt A hinaus, bis zu einer zweiten Stütze B ,