

4. Die Absperrvorrichtungen sollen sich in normale Rohrleitungen einbauen lassen und geringen Raum beanspruchen.

5. An selbsttätigen Ventilen sind die Vorgänge beim Öffnen und Schließen sorgfältig zu berücksichtigen. Die bewegten Teile müssen um so kleinere Gewichte und Hübe erhalten, je rascher sie arbeiten sollen.

## I. Ventile.

Je nach dem Zweck und der Art der Betätigung unterscheidet man:

A. Absperrventile. (Ventile in Rohrleitungen.) Die Betätigung geschieht meist von Hand.

B. Selbsttätige Ventile. (Ventile an Pumpen, Kompressoren, Gebläsen usw.) Das Öffnen und Schließen erfolgt von selbst, je nachdem der Druck unter oder über dem Ventilteller größer ist.

C. Gesteuerte Ventile. (Ventile an Dampf-, Gasmaschinen usw.) Die Bewegung der Ventile wird ganz oder teilweise durch einen besonderen Antrieb beherrscht.

D. Ventile für Sonderzwecke. (Sicherheits-, Rohrbruch-, Druckminderventile usw.)

### A. Absperrventile.

#### 1. Teile eines Absperrventils.

Die Teile eines Absperrventils, der Teller, der Sitz, die Spindel mit Führung und Stopfbüchse und der Ventilkörper sollen im folgenden einzeln besprochen werden.

Nach Abb. 734 werde die Öffnung, die sich bei gehobenem Ventilteller zwischen den Sitzflächen  $a$  und  $b$  bildet, als Ventilspalt, die engste Stelle der Öffnung, durch die die Flüssigkeit zuströmt und die gewöhnlich in Höhe der Sitzfläche  $a$  liegt, als Sitzweite bezeichnet. Sinngemäß seien der mit dem Hub veränderliche Spalt- und der unveränderliche Sitzquerschnitt unterschieden.

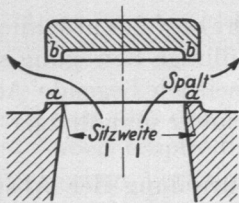


Abb. 734. Ventil geöffnet.

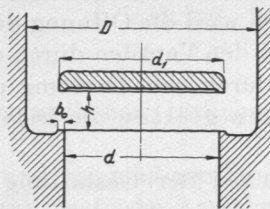


Abb. 735. Tellerventil mit ebenem Sitz.

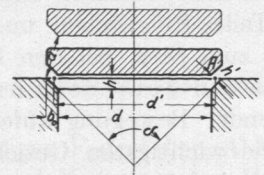


Abb. 736. Tellerventil mit kegeligem Sitz.

#### 2. Durchbildung des Tellers und des Sitzes.

Sie werde an einem einfachen Ventil mit rundem Teller und ebenen Sitzflächen, Abb. 735, gezeigt. Damit die Geschwindigkeit in dem zylindrischen Spalt zwischen den Sitzflächen die gleiche wie im Sitzquerschnitt ist, muß der Hub:

$$h = \frac{d}{4} \quad (167)$$

sein, wie ohne weiteres aus dem Gleichsetzen der beiden Durchflußquerschnitte:

$$\pi \cdot d \cdot h = \frac{\pi d^2}{4}$$

folgt. Die Sitzbreite  $b_0$  wird, soweit es Herstellung und Auflagedruck  $p_0$  gestatten, möglichst schmal gewählt, um das Ventil leichter einschleifen zu können und um den zur Dichtigkeit nötigen Anpreßdruck klein zu halten.